



Concursul județean de cultură generală

„AMICII ISTEȚI”

Ediția a V- a

clasa I

-etapa locală – 23 martie 2019-

Numele _____

Prenumele _____

Clasa _____

Profesor _____

Supraveghetor

1. _____

2. _____

- ❖ Toate subiectele sunt obligatorii!
- ❖ Durata probei: 60 minute
- ❖ Se acordă 10 puncte din oficiu!
- ❖ Se acceptă scrierea de mână sau de tipar (la alegerea elevului).

Partea I

Andrei este elev în clasa întâi, ca și voi. Îi place să rezolve exerciții, citește, descoperă lucruri noi. A selectat și vă propune câteva dintre exercițiile rezolvate de el. Iată provocarea!

1. Din câte silabe este alcătuit ultimul cuvânt din propoziția „A sosit primăvara cu alaiul ei de flori.”. Bifează răspunsul corect.

4

2

1

3

2. Care este ultima lună a anotimpului primăvara? Bifează răspunsul corect.

februarie

martie

aprilie

mai

3. Alin a colorat trei vulpi, două oi, o vacă, doi urși și patru cai. Câte animale domestice a colorat Alin? Bifează răspunsul corect.

12

6

7

8

4. În scrierea numerelor de la 10 (inclusiv) până la 20, de câte ori apare cifra 1?

10

11

9

12

5. După ce Matei a spart 5 baloane, a mai rămas cu 7 baloane. Câte baloane a avut Matei? Încercuiește răspunsul corect.

11

12

1

13

6. Dacă ieri a fost joi, ce zi va fi mâine? Bifează răspunsul corect.

vineri

duminică

luni

sâmbătă

Partea a II-a

1. Adevărat sau fals? Propozițiile se referă la textele „Pinocchio” de Carlo Collodi, „Fata babei și fata moșneagului” de Ion Creangă, „Ce miros au meseriile” de Giani Rodari.

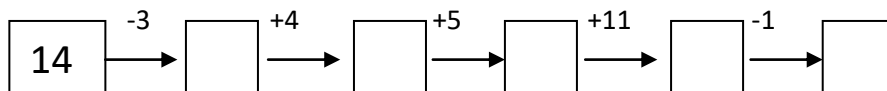
Cofetarul miroase a pâine.

Bătrânul Geppetto era tâmplar.

În orice tâmplărie miroase a scânduri.

Fata babei era bună la inimă.

2. Completați șirul:



3. Andreea a cules din grădină mai multe flori, astfel:

ZAMBILE – un număr mai mare decât 1, dar mai mic decât 3

LALELE – un număr par mai mic decât 8, dar mai mare decât 4

GHIOCEI – cel mai mare număr impar scris cu o cifră

NARCISE – cel mai mic număr par scris cu 2 cifre

FREZII – numărul care are ca vecini pe 5 și 7

4. Descoperă și taie intrusul din următoarele șiruri.

urs, lup, oaie, vulpe

frate, bunică, mama, cofetar, soră




săpun, șampon, ciocan, periuță de dinți, pastă de dinți

ghiocel, viorea, ploaie, zambilă, lalea

morcovi, ardei, cartofi, caise, vinete

Partea a III-a

1. Alina, Ana, Mara și Irina au decupat figuri geometrice. Scrie operația corespunzătoare și calculează conform indicațiilor.

			
Alina	0	12	2
Ana	10	0	8
Mara	20	4	6
Irina	5	10	3

a) Câte triunghiuri au decupat în total Ana și Mara?

b) Câte cercuri au decupat în total Ana și Mara și Alina?

c) Cu câte triunghiuri a decupat mai mult Mara decât Irina?

d) Câte dreptunghiuri au decupat în total Ana, Irina și Alina?