

# Concurs Județean de Cultură Generală

„AMICII ISTEȚI”

Ediția a III-a

Clasa I

Etapa pe școală

27 februarie 2017

Numele .....

Prenumele .....

Clasa .....

Școala

.....

.....

Profesor .....

Supraveghetor .....

- Toate subiectele sunt obligatorii!
- Durata probei: 60 de minute
- Se acordă 10 puncte din oficiu!
- Se acceptă scrierea de mână sau de tipar (la alegerea elevului).

## Partea I

1. În ce anotimp pleacă păsările călătoare?

- A) vara;
- B) primăvara;
- C) toamna;
- D) iarna

2. Alege propoziția scrisă corect:

- A) Amunnaimare.
- B) am un nai mare.
- C) Am un naimare.
- D) Am un nai mare.

3. Ionel locuiește pe o stradă curată. Strada nu este ... .

- A) mare;    B) murdară;    C) largă;    D) lungă.

4. În sala de sport sunt 11 mingi și 15 copii.

Câte mingi ar mai trebui pentru ca fiecare copil să aibă o minge?

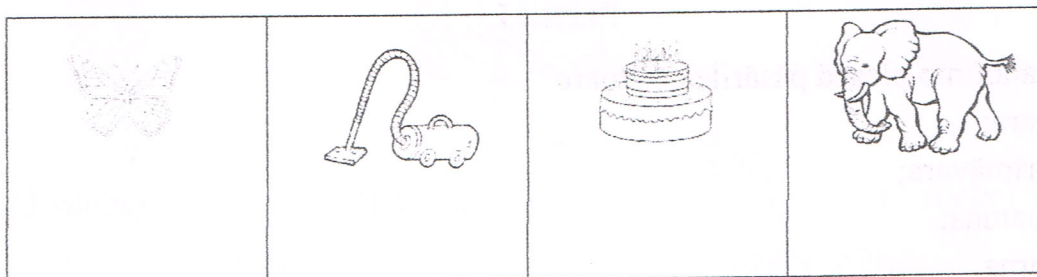
- A) 15;    B) 26;    C) 4;    D) 11.

5. Numără câte litere conține titlul AMICII ISTEȚI. Dacă aduni vecinii acestui număr, vei obține:

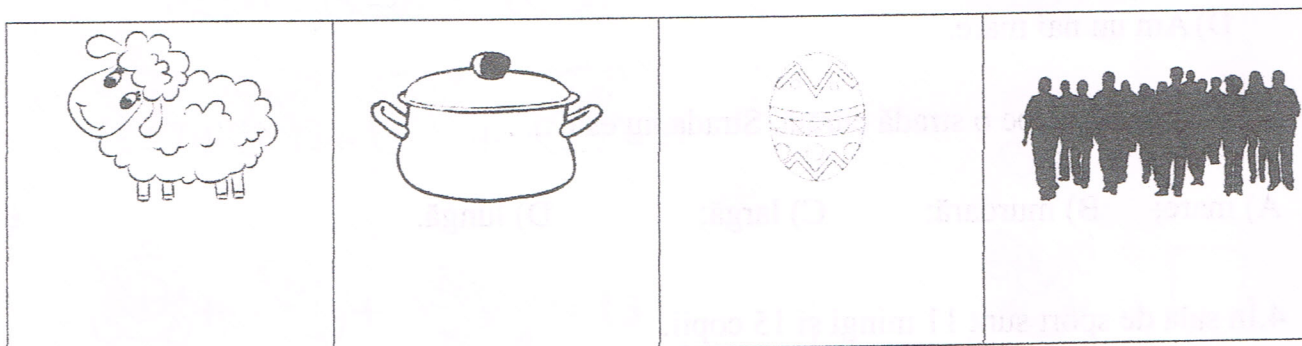
- A) 23;      B) 11;      C) 14;      D) 24.

### Partea a II-a

1) Scrie în casetă cifra corespunzătoare numărului silabei în care se aude sunetul "t":



2) Privește imaginile:



Cuvintele care denumesc aceste imagini se aseamănă prin:

- A) numărul de silabe;  
B) aceeași silabă cu care încep;  
C) numărul identic de litere;  
D) faptul că încep cu același sunet.

### 3) „Familia mea”

Pentru a face cunoștință cu familia mea, selectează dintre paranteze și scrie prenumele potrivit cerințelor:

EU

FRATELE MEU

MAMA

TATA



(3 silabe)







(4 silabe)

(4 silabe)

(2 silabe)

(Liliana, Emil, Stelian, Aurică)

4. Albă-ca-Zăpada trebuie să ajungă la căsuța piticilor. Ajut-o să găsească drumul, unind copacii pe care sunt scrise operații ale căror rezultate sunt numere pare.





5. Completează șirurile cu încă două numere:

15 17 19 ..... .....

18 21 24 ..... .....

30 26 22 ..... .....

25 20 15 ..... .....

### Partea a III-a

1) Scrie în dreptul imaginii fiecărui copil un prenume corespunzător cerinței:



.....

(3 silabe)



.....

(1 silabă)



.....

(2 silabe)

2) Fiecare jucărie ascunde același număr în cele 3 sume. Află numerele.

$$\text{娃娃} + \text{娃娃} + \text{娃娃} = 9$$

$$\text{娃娃} = \square$$

$$\text{熊} + \text{熊} + \text{熊} + \text{熊} = 8$$

$$\text{熊} = \square$$

$$\text{娃娃} + \text{熊} + \text{木马} = 13$$

$$\text{木马} = \square$$