

CONCURS JUDEȚEAN DE CULTURĂ GENERALĂ

AMICII IȘTEȚI

Ediția a III-a

Etapa pe școală

27 februarie 2017

CLASA PREGĂTITOARE

- Toate subiectele sunt obligatorii!
- Durata probei : 60 minute.
- Se acordă 10 puncte din oficiu.

Numele

Prenumele

Clasa

Școala


Profesor

Supraveghetor

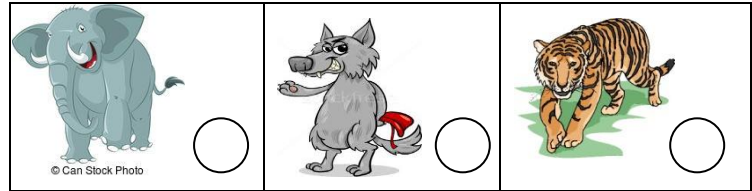
PARTEA I

<p>1. SĂRBĂTORIM CRĂCIUNUL ÎN ANOTIMPUL IARNA. (pune X în cerculețul corespunzător)</p>			
<p>2. TOAMNA, COROANA UNUI POM SE COLOREAZĂ CU: (pune X în cerculețul corespunzător)</p>			
<p>3. VEI AVEA UN CORP SĂNĂTOS DACĂ ZILNIC: (pune X în cerculețul corespunzător)</p>			
<p>4. PENTRU A CREȘTE, PLANTA ARE NEVOIE DE: (pune X în cerculețul corespunzător)</p>			


PARTEA a II-a



1. Iezii din poveste au fost mâncați de un animal sălbatic. Tu îl recunoști? Marchează cu X imaginea corespunzătoare.



2. Descoperă numele fetei:



A

E

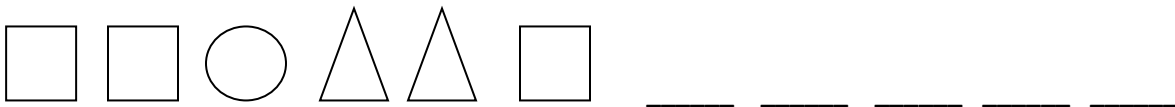
M

Marchează cu X numele fetei.

AME	EMA	MEA

3. Găsește schema corectă pentru cuvântul "NINA" și marcheaz-o cu X.

4. Descoperă regula și continuă șirul cu tot atâtea elemente cât îți indică spațiile goale:




5. Privește cu atenție numerele : 7, 3, 1, 4, 10, 6. Găsește varianta în care numerele sunt așezate în ordine descrescătoare și marcheaz-o cu X.

1, 3, 4, 6, 7, 10	10, 7, 4, 6, 3, 1	10, 7, 6, 4, 3, 1

PARTEA a III-a

1. Câte flori și câți fluturi sunt în imagine? Alege și încercuiește cifrele corespunzătoare.










1 2 3 4 5 6 7 8 9 10

2. Cum procedezi să ai tot atâția fluturi câte flori? Desenează în caseta de jos fluturii de care ai nevoie.

PROBA DE BARAJ:

Descoperă cuvintele din grilă. De câte ori este scris cuvântul „NAI”?

	N	A	I	
R	A		Ă	N
A	I	R		A
I		N	A	I
	N	A	I	



CONCURS JUDEȚEAN DE CULTURĂ GENERALĂ

“AMICII ISTEȚI”

Ediția a III-a





Etapa pe școală

27.03.2017





CLASA PREGĂTITOARE



-BAREM DE CORECTARE-

PARTEA I : 20 puncte


1. 	2. 	3. 	4. 
5 puncte	5 puncte	5 puncte	5 puncte

PARTEA a II-a : 50 puncte

1. 	2. 			EMA
	E	M	A	
10 puncte	5 puncte			5 puncte

3. 	4. 	5. 10, 7, 6, 4, 3, 1
10 puncte	5x2 puncte= 10 puncte	10 puncte

PARTEA a III-a : 20 puncte

4 8	
2x5 puncte= 10 puncte	10 puncte

PROBA DE BARAJ: 5x2 puncte= 10 puncte

5

