



Concursul județean de cultură generală

„AMICII ISTEȚI”

Ediția a III- a

clasa I

-etapa județeană-

27.05.2017

Numele _____

Prenumele _____

Școala _____

Profesor _____

Supraveghetor

1. _____

2. _____

- ❖ Toate subiectele sunt obligatorii!
- ❖ Durata probei: 60 minute
- ❖ Se acordă 10 puncte din oficiu!
- ❖ Se acceptă scrierea de mână sau de tipar (la alegerea elevului).



Partea I

- Bună ziua! Sunt Dinu, elev în clasa I, ca și voi.

Vă voi prezenta câteva momente din programul zilei mele de luni.

1. Mă trezesc la ora 7.00 și plec spre școală după jumătate de oră. La ce oră plec spre școală? Bifează răspunsul corect.

7:45

7:30

8:00

7:15

2. Până la școală merg împreună cu amicii mei Alexe, Dan și Andrei. Unul dintre numele noastre nu conține litera „a”. Care este numele care nu conține litera „a”? Bifează răspunsul corect.

Dan

Alexe

Andrei

Dinu

3. Noi am împlinit o vârstă cuprinsă între 4 și 8 ani, dar și între 6 și 10 ani. Ce vârstă am împlinit? Bifează răspunsul corect.


5 ani

10 ani

7 ani

8 ani

4. Alexe spune că numele lui este format dinlitere șisunete. Tu ce crezi? Completează propoziția.



5. Orele se încheie la 12:00. La întoarcere spre casă ne jucăm „Eu spun una, tu spui multe”. Andrei spune cuvântul „vioară”. Voi cum spuneți mai multe?

vioare viorele viori Viorel


6. Dan va participa la o întrecere sportivă la care s-au înscris 34 copii. Dintre aceștia 17 sunt fete. Câți băieți vor participa?

13 băieți 12 băieți 17 băieți 14 băieți

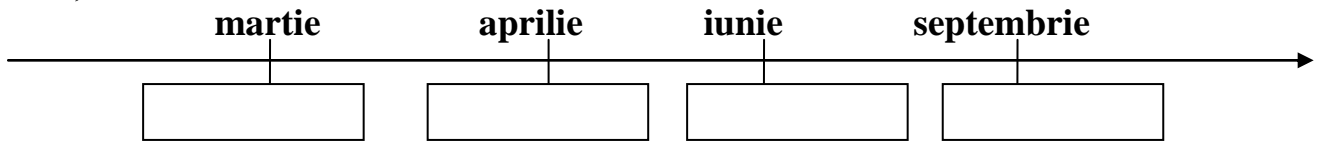
PARTEA A II-A

1. La ora 15 încep să îmi fac temele pentru a doua zi. Unul dintre exerciții mi-a plăcut foarte mult. Mama vitregă a Albei-ca Zăpada privește în oglindă și citește cuvintele. Oare ce citește ea de fiecare dată? Scrie invers cuvintele date.

CAR
ERA
APUC
APUS




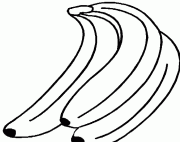



2. Cei patru prieteni sunt născuți în același an, dar în luni diferite. Dinu e născut în luna iunie, Alexe în luna martie, Dan în aprilie și Andrei în septembrie. Care este cel mai mic dintre noi? Scrie în caseta corespunzătoare numele fiecărui copil în funcție de luna în care s-a născut.



Scrie în căsuță care este cel mai mic dintre ei.

Cel mai mic este

3. Prietenul meu Dan m-a sunat să-mi ceară ajutorul. Urmărește tabelul și calculează:

				
21	14	6	19	10

- Cu cât este mai mare numărul merelor decât al perelor?.....
- Cu cât este mai mic numărul bananelor decât al perelor?.....
- Câte fructe din livadă sunt în total?
- Câte legume sunt în total?.....

4. Și Andrei îmi cere ajutorul. Cred că mai mult mă încercă. Îmi dă câteva informații din care unele nu sunt adevărate. Eu am reușit să îmi dau seama care sunt. Pune și tu A (adevărat) sau F (fals) în dreptul propozițiilor corespunzătoare.

- Lunile anotimpului primăvara sunt aprilie, mai și iunie.
- Păsările călătoare se întorc primăvara.
- Traversăm strada doar la culoarea verde a semaforului.
- Colaborăm când muncim în echipă.

Partea a III-a

Este ora 19:00. Toată familia mea este în sufragerie. Tata se uită pe calendar și mă provoacă punându-mi întrebări. Ajută-mă să îi dau răspunsuri corecte.

	LUNI	MARȚI	MIERCURI	JOI	VINERI	SÂMBĂȚĂ	DUMINICĂ
IUNIE				1	2	3	4
	5	6	7	8	9	10	11
	12	13	14	15	16	17	18
	19	20	21	22	23	24	25
	26	27	28	29	30		

1. Câte duminici are luna iunie?

Luna are duminici.

2. Ziua fratelui meu este pe 12 iunie. În ce zi va fi sărbătorit?

Va fi sărbătorit

3. Tata spune că de Ziua Copilului vom merge la Delfinariu.

În ce zi și la ce dată va fi Ziua Copilului?

Data în ziua de

4. Câte zile cu soț (pare) sunt în luna iunie?

Sunt zile pare.

5. Între 13 și 22 iunie sunt zile de miercuri.