

Numele elevului:

.....

Școala :

.....

Cadrul didactic:

.....

Supraveghetor:

.....

CONCURSUL JUDEȚEAN DE CULTURĂ GENERALĂ
AMICII ISTEȚI
EDIȚIA A IV-A
CLASA I
ETAPA a II-a – ETAPA LOCALĂ
21 APRILIE 2018

- ❖ **Toate subiectele sunt obligatorii!**
- ❖ **Durata probei: 60 minute**
- ❖ **Se acordă 10 puncte din oficiu!**

SUBIECTUL I

Cu coroana sa de flori parfumate, Zâna Primăvara a venit să ne aducă un zâmbet dulce . Să îi arătăm ce am învățat cât timp a lipsit!

1. Pe ramura unui copac ciripesc câteva rândunele. Dacă ar mai veni 8 ar fi 25. Câte rândunele sunt în copac? Încercuiește răspunsul corect.
a) 23 b) 17 c) 33 d) 16
2. Cuvântul care nu are același înțeles cu „cărare” este... Încercuiește răspunsul corect.
a) drum b) potecă c) canal d) alee
3. Citește cu atenție enunțul:
Primăvara este anotimpul miresmelor și al culorilor.
Litera a opta din al patrulea cuvânt este... . Încercuiește răspunsul corect.
a) e b) l c) m d) o
4. Fata babei așază lucrurile în cutii, apoi numerotează cutiile astfel : 23, 83, 32, 7, 89, 15, 63, 49. Câte cutii au scrise pe ele numere mai mici decât 50? Încercuiește răspunsul corect.
a) 6 b) 5 c) 4 d) 3
5. Valentina , Ancuța, Codruț și Călin joacă FAZAN: spun un cuvânt care să înceapă cu ultima literă de la sfârșitul cuvântului spus înainte. Cine a greșit? Încercuiește răspunsul corect.
a) Valentina spune „amar”;
b) Ancuța spune „rapid”;
c) Codruț spune „inel”;
d) Călin spune „lacrima”;
6. Maria și colegii ei s-au așezat în șir indian. Maria are în față sa 17 colegi iar în spate 8. Câți copii sunt în șir? Încercuiește răspunsul corect.
a) 25 b) 28 c) 26 d) 27
7. Pinocchio trebuie să continue șirul. Îl puteți ajuta?
10 20 A 20 30 B 30
a) 40, C, 40, 50, D b) C, 40, 50, D, 60 c) 40, C, 50, 60, D d) 40, 50, C, 60, 70

SUBIECTUL II



1. Dacă fata babei nu ar fi atât de leneșă, ar reuși să ordoneze silabele în cuvinte. O ajuți tu? Scrie în tabel cuvintele obținute.

te, li, a , er	
moa, co , ră	
ie, re, gre	
e, ri, se, me	
tă, bru, e, ri	

2. Așază în ordine următoarele animale știind că :

- ursul nu este nici primul, nici al doilea;
- vulpea stă lângă câine, care este primul ;
- iepurele este ultimul;
- ariciul este imediat după urs.

Scrie în casetă numărul corespunzător poziției fiecărui animal.



3. Lui Pinocchio îi place să compună versuri. Citește cu atenție creația lui. Descoperă numărul de cuvinte și numărul de silabe. Completează tabelul cu numerele găsite.

**Trei furnici și o albină
Stau la soare în grădină.**

Număr cuvinte	Număr silabe

4. De câte ori se repetă cifra 5 în numerele cuprinse între 35 și 56 ?

a) 8

b) 17

c) 3

d) 6

5. Completează în fiecare casetă cu A dacă propoziția este adevărată sau F dacă propoziția este falsă.

Plămâni se află în cutia craniană.

Inima pompează sângele în tot corpul.

Creierul este coordonatorul organismului .

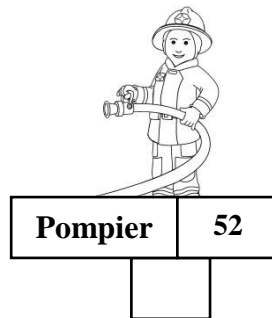


Stomacul este organul cu ajutorul căruia respirăm.

Rinichii ajută la eliminarea toxinelor din corp.

6. Poți afla ce meserie are tatăl Elenei dacă găsești numărul corect. Bifează caseta corespunzătoare.

- este un număr par, mai mic decât 70;

- cifra unităților este mai mică decât cea a zecilor cu 2.



7. Fata babei îi învață pe copiii Sfintei Vineri despre igiena personală. Ea a recomandat următoarele:

săpun, burete, lopată, prosop, stilou.

a) Transcrie cuvintele care denumesc obiectele intruse:

b) Scrie pe spațiul de mai jos alte două obiecte de igienă personală:

SUBIECTUL III

1. a) Ordonează cuvintele pentru a obține o propoziție. Scrie în casetă numărul corespunzător.

verde , traversează , la , semaforului , doar , culoarea , a , pietonii

b) Transcrie propoziția obținută:

<hr/> <hr/> <hr/> <hr/> <hr/> <hr/> <hr/> <hr/> <hr/> <hr/> <hr/> <hr/>

2. Coronița Zânei Primăvara este alcătuită din multe flori parfumate.

a) Ce număr se ascunde în spatele fiecărei flori ?

$$\text{tulipă} + \text{tulipă} + \text{tulipă} + \text{tulipă} + \text{tulipă} = 50$$

$$\text{tulipă} = \square$$

$$\text{cornușor} + \text{cornușor} + \text{cornușor} = 15$$

$$\text{cornușor} = \square$$

$$\text{flori mici} + \text{flori mici} = 16$$

$$\text{flori mici} = \square$$

b) Care este suma numerelor găsite?

--	--	--	--	--	--	--	--	--	--	--	--	--	--	--	--	--	--	--	--

BRAVO! AI REUȘIT!